

En el contenedor azul del pueblo de vilaverde caben 1254 kilos de papel.
Si el camión que recoge el papel para reciclar pasa cuatro veces cada mes...
¿cuántos kilos de papel puede recoger en total en ese tiempo?



$$\begin{array}{r} 1254 \\ \times 4 \\ \hline \end{array}$$



Aproximadamente, por cada 60 kilos de papel que reciclamos, salvamos un árbol de ser cortado. ¿Sabes cuántos kilos hay que reciclar para salvar 9 árboles?



$$\begin{array}{r} 60 \\ \times 9 \\ \hline \end{array}$$

Si por cada kilo de papel reciclado, ahorramos 21 litros de agua necesarios para fabricarlo. ¿cuántos litros ahorraremos si reciclamos ocho kilos de papel?




$$\begin{array}{r} 21 \\ \times 8 \\ \hline \end{array}$$



como sabes, un año tiene 12 meses. Mireia va tres veces cada mes hasta el contenedor azul. Allí deposita cartón y papel para reciclar. ¿Sabes cuántas veces va a lo largo del año?




$$12 \times \bigcirc = \bigcirc$$


Entre la casa de Mireia y el colector azul hay una distancia de 123 metros. Mireia hace el recorrido, ida y vuelta, seis veces cada mes. ¿cuántos metros recorre en total?



$$\begin{array}{r} 123 \\ \times \quad \square \\ \hline \square \end{array}$$

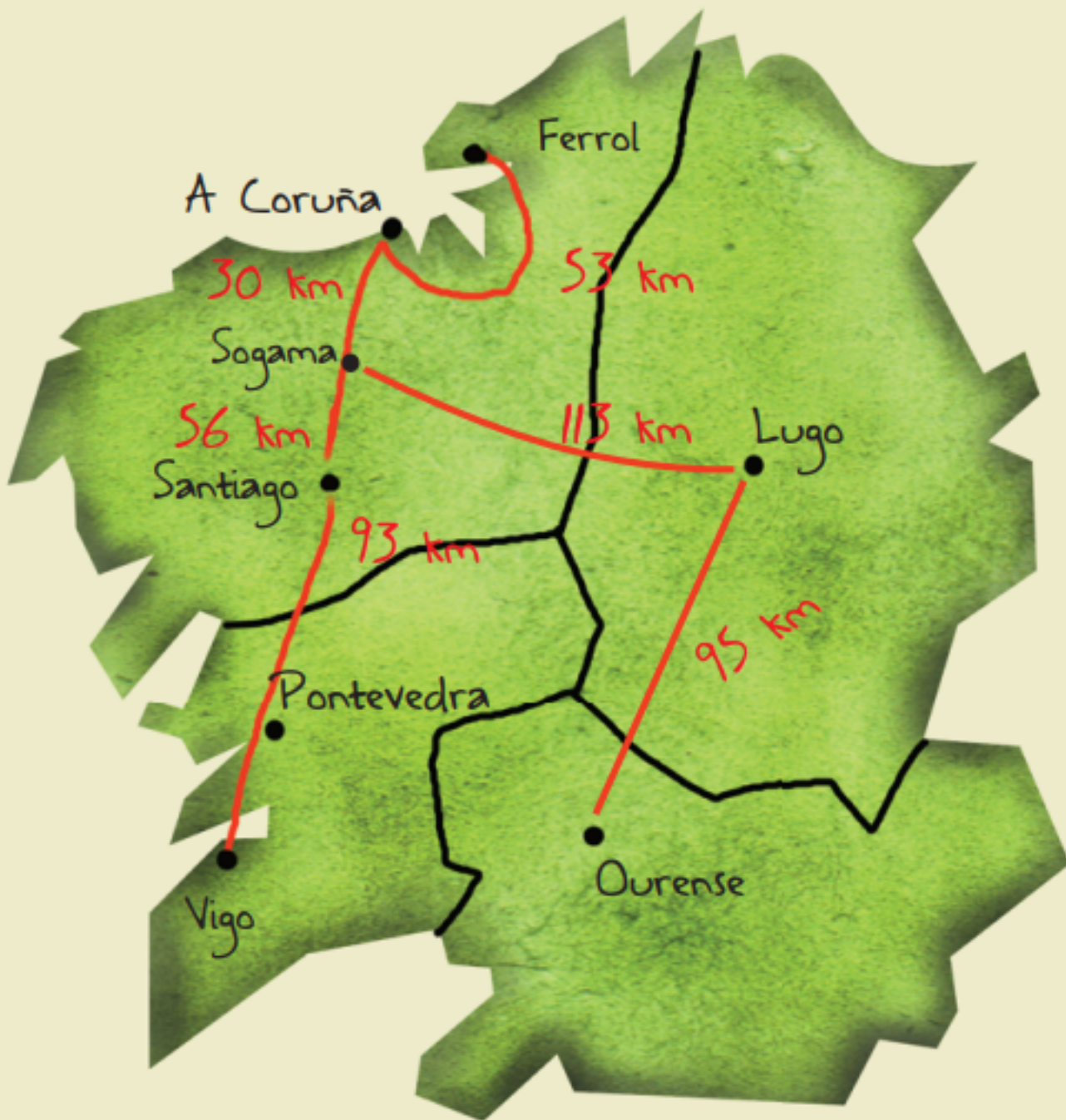


En la casa de Mireia y Tomé compran el periódico todos los días. ¿Sabes cuántos periódicos llevó Mireia al contenedor azul durante los últimos tres meses?

Mireia lleva este mes cuatro hueveras vacías para reciclar. En cada caja había una docena de huevos. ¿cuántos huevos comieron en casa de Mireia y Tomé?



¡uh! ¡Alguien ha metido unos briks en la bolsa para el contenedor azul!
¡Mal hecho! Recordad:
¡Los briks de leche van al contenedor amarillo!



Los amigos de vilaverde viajarán este curso a la planta de Sogama. Otros niños y niñas de Galicia lo han hecho antes.

| | |
|-------------------------|--------|
| Ourense a Lugo | 95 km |
| Lugo a Sogama | 113 km |
| Ferrol a Coruña | 53 km |
| Coruña a Sogama | 30 km |
| Vigo a Santiago | 93 km |
| Santiago a Sogama | 56 km |

Chicos y chicas de Ourense fueron a Lugo a visitar la muralla. Desde allí siguieron camino a Sogama. ¿Sabes cuántos kilómetros recorrieron?

$$\square + \square = \square$$

El alumnado de Ferrol pasó por A Coruña a ver la casa de las ciencias. Después siguieron camino a la planta de Sogama. ¿Cuántos kilómetros completaron?

$$\square + \square = \square$$

Los escolares de Vigo pararon en Compostela a visitar la catedral. Después siguieron camino a Cerceda. ¿Qué distancia sumaron al llegar a la planta de Sogama?

$$\square + \square = \square$$

¿Qué grupo ha recorrido más kilómetros?

Y desde donde tu vives... ¿sabes cuántos kilómetros tienes que viajar hasta la planta de Sogama?

Comparándolo con los de Ferrol, ¿cuántos kilómetros más han recorrido los de Ourense?

$$\square - \square = \square$$